

## NORD

♦ Observe les photos n°36 à 47 et complète le tableau. Un animal peut apparaître dans plusieurs cases. Chacun des animaux doit apparaître au moins une fois.


	Numéro de la photo	Nom de l'animal
Colonne vertébrale (squelette interne)	n°36 à 47	Oie des neiges, renard polaire, lièvre variable, ours polaire, harfang des neiges, bœuf musqué, renard roux, renne
4 membres (4 pattes ou 2 pattes et 2 ailes)	n°36 à 47	Oie des neiges, renard polaire, lièvre variable, ours polaire, harfang des neiges, bœuf musqué, renard roux, renne
Poils et mamelles	n°37, 38, 39, 40, 44, 45, 46, 47	Renard polaire, lièvre variable, ours polaire, bœuf musqué, renard roux, renne
Plumes et bec	N°36, 41, 42, 43,	Oie des neiges, harfang des neiges
Cornes	n°37, 44, 45, 47	Renne, bœuf musqué
Sabots	n°37, 44, 45, 47	Renne, bœuf musqué

♦ Observe les photographies et note pour chaque zone géographique le nom de deux animaux de ton choix.

LORRAINE :

- Un Oiseau :


- Un Mammifère :



NORD :

- Un Oiseau :


- Un Mammifère :



AFRIQUE :

- Un Oiseau :

- Un Mammifère :



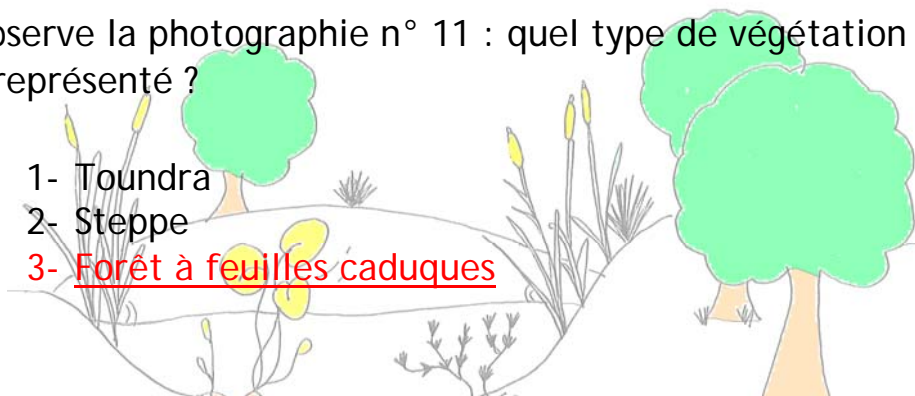
## VÉGÉTATION ET CLIMAT

◆ Complète le texte ci-dessous avec les mots : eau, steppes, polaire, toundra, tropical, Canada et recherche les n° des photos correspondants

La végétation des hauts plateaux d'Éthiopie est constituée de **STEPPE**. Elles correspondent à une formation discontinue de végétaux vivant dans des milieux très pauvres en **EAU**. Tu peux le voir sur la photographie n° **68, 69, 70**.

Le Grand Nord est une région du **CANADA** où le climat est **POLAIRE** et où la végétation est appelée la **TOUNDRA**. Elle est constituée de buissons et d'herbacées. Tu peux le constater sur la photographie n° **51**.

◆ Observe la photographie n° 11 : quel type de végétation est représenté ?



DE CRÉPUSCULE  
EN CRÉPUSCULE  
Billebaude au crépuscule

**FICHE CORRIGÉE**

LORRAINE

◆ Retrouve à quelles photos correspondent ces détails et note le nom de l'animal.



Photo n° **3**  
Nom : **Bergeronnette**



Photo n° **9**  
Nom : **Cerf élaphe**



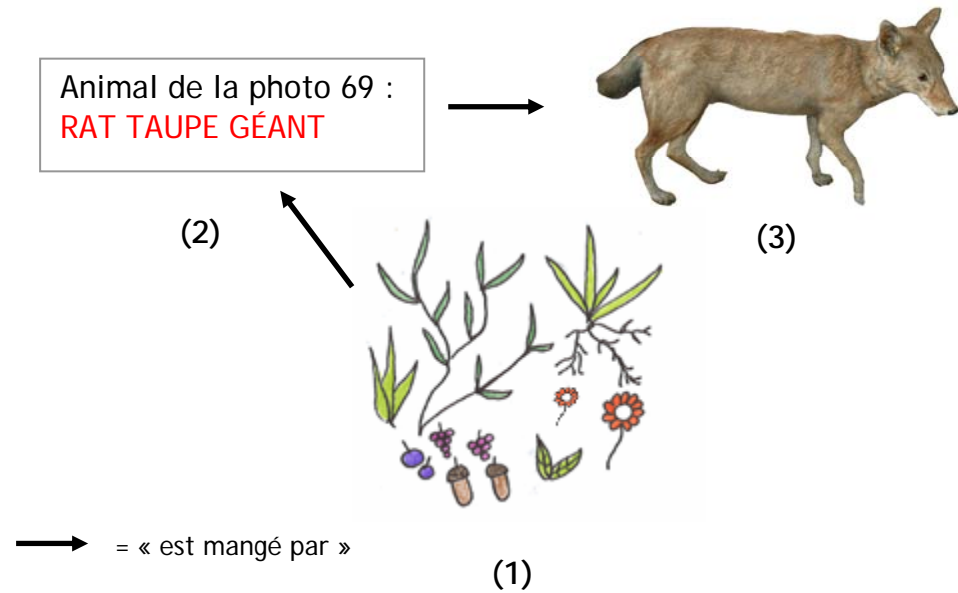
Photo n° **16**  
Nom : **Buse variable**



Photo n° **30**  
Nom : **Lynx**

## AFRIQUE

◆ Qui mange quoi ? Complète la chaîne alimentaire ci-dessous.

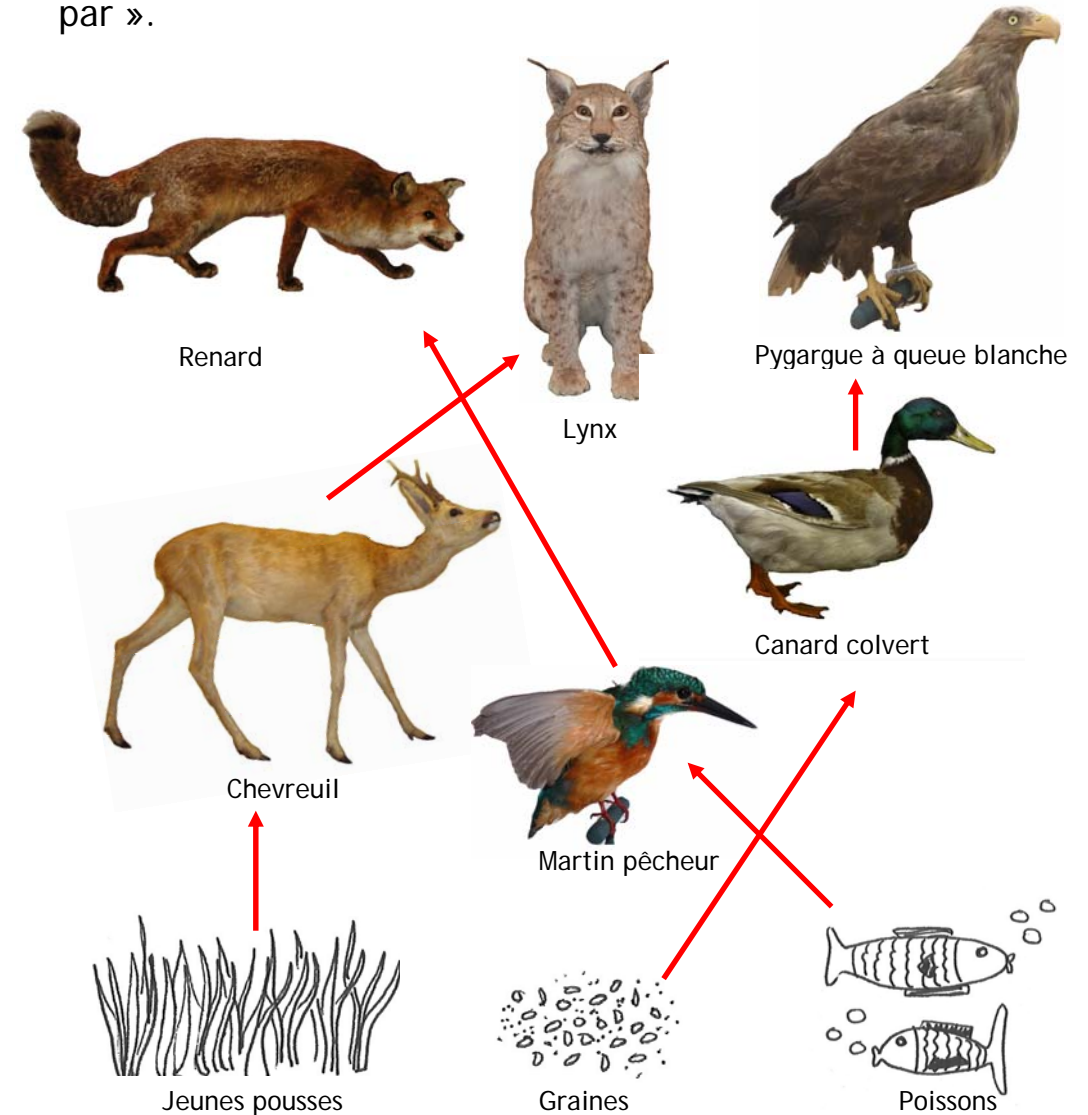


◆ Complète le texte en t'aidant du schéma ci-dessus.

Les (1) **VÉGÉTAUX** sont mangés par le (2) **RAT TAUPE GÉANT** qui lui-même est mangé par le (3) **LOUP D'ABYSSINIE** (photo 61).

## PODIUM DE LORRAINE

◆ Qui mange qui ? À l'aide des textes, crée 3 chaînes alimentaires à 3 maillons en reliant les animaux et les végétaux ci-dessous par des flèches signifiant « est mangé par ».



♦ En t'aidant des animaux présentés sur le podium, retrouve et entoure les oiseaux qui vivent en zone humide.

♦ Choisis une photographie dans la zone Afrique et fais-en un croquis.

