

NORD

♦ Observe les photos n°36 à 47 et complète le tableau. Un animal peut apparaître dans plusieurs cases. Chacun des animaux doit apparaître au moins une fois.


	Numéro de la photo	Nom de l'animal
Colonne vertébrale (squelette interne)		
4 membres (4 pattes ou 2 pattes et 2 ailes)		
Poils et mamelles		
Plumes et bec		
Cornes		
Sabots		

- Les animaux qui possèdent une colonne vertébrale, 4 membres, des poils et des mamelles sont des Mammifères.
- Ceux qui possèdent une colonne vertébrale, 4 membres, des plumes et un bec sont des Oiseaux.

♦ Observe les photographies et note pour chaque zone géographique le nom de deux animaux de ton choix.


LORRAINE :


- Un Oiseau :
- Un Mammifère :



AFRIQUE :

- Un Oiseau :
- Un Mammifère :





NORD :

- Un Oiseau :
- Un Mammifère :

VÉGÉTATION ET CLIMAT

◆ Complète le texte ci-dessous avec les mots : eau, steppes, polaire, toundra, Canada et recherche les numéros de photos correspondants.

La végétation des hauts plateaux d'Éthiopie est constituée de _____. Elles correspondent à une formation discontinue de végétaux vivant dans des milieux très pauvres en _____. Tu peux le voir sur la photographie n° ____.

Le Grand Nord est une région du _____ où le climat est _____ et où la végétation est appelée la _____. Elle est constituée de buissons et d'herbacées.

Tu peux le constater sur la photographie n° ____.

◆ Observe la photographie n° 11 : quel type de végétation est représenté ?

- 1- Toundra
- 2- Steppe
- 3- Forêts à feuilles caduques



DE CRÉPUSCULE EN CRÉPUSCULE



Billebaude au crépuscule

LORRAINE

◆ Retrouve à quelles photos correspondent ces détails et note le nom de l'animal.



Photo n° _

Nom : _____



Photo n° _

Nom : _____



Photo n° _

Nom : _____

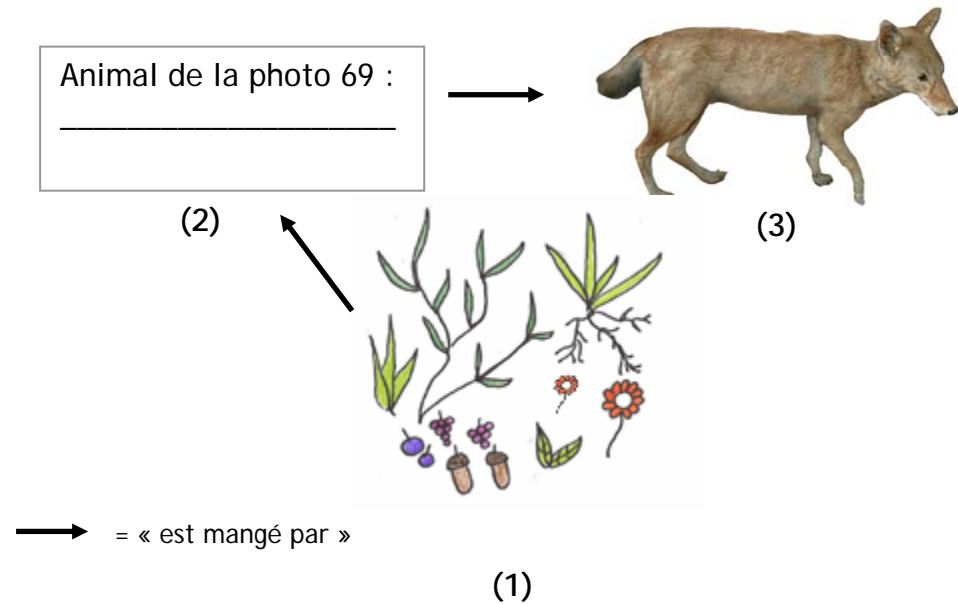


Photo n° _

Nom : _____

AFRIQUE

◆ Qui mange quoi ? Complète la chaîne alimentaire ci-dessous.




◆ Complète le texte en t'aidant du schéma ci-dessus.

Les (1) _____ sont mangés par le (2)
 _____ qui lui-même est mangé par le (3)
 _____ (photo 61).

PODIUM DE LORRAINE

◆ Qui mange qui ? À l'aide des textes, crée 3 chaînes alimentaires à 3 maillons en reliant les animaux et les végétaux ci-dessous par des flèches signifiant « est mangé par ».



◆ En t'aidant des animaux présentés sur le podium, retrouve et entoure les oiseaux qui vivent en zone humide.

◆ Choisis une photographie dans la zone Afrique et fais-en un croquis.



Bergeronnette



Foulque macroule



Buse variable



Goéland argenté



Pic épeiche



Cygne chanteur



Canard colvert



Grand tétaras

